

60 GRADER NORD

Del opp i to eller flere lag. Send med en leder på hver gruppe (avhengig av alder, avstander og terreng).

INFO TIL SPEIDERE

- Følg postenes rekkefølge.
- Ta med dere en logo fra hver post.
- Ikke lov å ha med klokke, mobil eller andre hjelpemidler (gi det til lederen som følger gruppa).
- Laget som bruker kortets tid på dag 1 får forsprang på dag 2. Laget som kommer først frem dag 1 kommer til individuelle finalene søndag. Til sist er det en som vinner.

INFO TIL LEDER

- Lov å hjelpe å forklare hva posten eller kartet sier, men ikke lov å hjelpe/løse oppgaver eller vise vei (om ikke de har gått seg vill).
- De må finne frem på kart.
- Ta vare på klokkene og mobilene deres.
- Er laget ditt sist på posten, ta med posten (og ev det som hører til).
- Tvungen 20 min pause (minn barna på å spise og drikke).
- Ta bilder av barna underveis, og informer om hvor dere er i løypa.



Påmeldingsfrist:

Oppmøte:

Henting:

Pakkeliste:

Bagasjen skal bæres et stykke (ikke alt hele helga, men alt noen km), så pakk i noe stort som er godt å bære.

- **Sove pose** (kan bli kaldt, så ta gjerne med ullpledd og eller en ekstra sovepose så du har flere lag)
- **Liggeunderlag** (vi sover på presending på bakken)
- **Varmt ulltøy** (inkludert gode ullsokker)
- **Mat** for tre dager
- **Stor vannflaske**
- **Dagstursekk**
- **Gode tursko**, og et ekstra par joggesko til å skifte til om det blir bløtt
- **Regntøy**
- **Skift** til to dager
- **Tannbørste**, tannkrem, deodorant, lite håndkle, gnagsårplaster
- **Toalettpapir**
- **Lue**, votter, buff
- **Lommelykt**

Ev:

- **Hengekøye** til å sove i
- **Solkrem**, solbriller
- **Kamera**





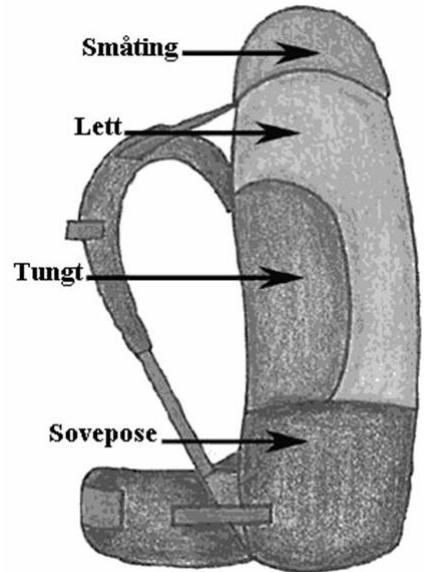
OPPGAVE 1



Alle må pakke ut bagasjen sin og legge det pent utover presenningen.

- Mangler det noe?
- Er det ting som er unødvendig?

Få pakkingen godkjent og gå videre til post 2. Pakk sekkene (jakke, mat og drikke til dagstur. Pakk resten tilbake i sekken/baggen og legg i bilen).



OPPGAVE 2



På den tiden skal Mikael stå fram, den store fyrsten som står ved dine landsmenns side. Det skal komme en trengselstid som det ikke har vært maken til fra folkeslag oppsto og helt til den tiden. Men på den tiden skal ditt folk bli berget, alle som er skrevet opp i boken.

Daniel 12:1

Les Salmene 46 og 91 og finn ut hvilke vers som kan være til hjelp i trengselstiden som Daniel 12:1 beskriver.



OPPGAVE 3



Hvor lang tid bruker dere på å komme dere til post 4?
Bestem dere for hva dere tror. Ta frem stoppeklokken.
Start den og legg den i boksen. Boksen kan åpnes når
dere er ved post 4 (les flere instruksjoner på post 4).



OPPGAVE 4



Dere kan nå velge når dere vil åpen boksen med stoppeklokken, og se på tiden dere har brukt. Hvor mye feil tok dere eventuelt (enten for tidlig eller seint)? Regn ut hvor langt unna dere er fra gjettet deres, og vent straffetiden her ved denne posten.

0-2 min = 0 min venting

3-4 min = 5 min venting

5-10 min = 10 min venting

11-15 min = 15 min venting

Mer enn 15 min = 20 min venting

Post 5 er dagens siste post. Laget som har brukt minst tid på løypa vil i morgen få et 20 minutters forsprang på de andre.



OPPGAVE 5



Dere er nå ved siste post for dagen. Det laget som brukte minst tid fra post 1 til 5 får 20 minutter forsprang på de andre i morgen.



OPPGAVE 6



Alle på laget skal gjennom denne hinderløypa. Fest på deg “selen”, følg tauet fra start til slutt. Bytt så til neste (som går tilbake til start). Når alle har vært gjennom, sett selen tilbake og gå videre til post 7.



OPPGAVE 7



Velg ut en på laget som er god til å beregne. Vedkommende skal gå til vannet (kun ha med seg boksen, ikke sylindere) og hente vann som tilsvarer 150 ml på målesylindere (kun et forsøk).

Når vannet er helt over i sylindere må dere ev sitte ut straffetiden (om dere ikke traff nøyaktig da).

0 ml ifra = 0 min

20 ml ifra = 2 min

50 ml ifra = 5 min

70 ml ifra = 10 min

90 ml ifra eller mer = 15 min



OPPGAVE 8



Memoriser denne tallrekken, og gjenta den når dere kommer til neste post.

98689988473735473215983840404352

OPPGAVE 9



Si tallrekken. Begynn fra venstre. Ved første feil, tell antall tall som står på høyre siden av tallet dere tok feil av. Dette antallet blir minutter dere må vente før dere kan gå videre.

98689988473735473215983840404352

FASIT

OPPGAVE 10



Hvor dyp er Tyrifjorden på det dypeste? Velg et av svaralternativene under. Er svaret rett kan dere gå videre til neste post. Er svaret feil, finn frem timeglasset og la den renne ferdig(10 min) før dere kan gjette igjen. Gjetter dere feil flere ganger må du benytte timeglasset mellom hvert gjett.



GALT

GALT

GALT

RIKTIG

142 m

187 m

251 m

295 m

OPPGAVE 11



Tower of Hanoi

Sett opp tårnet som på bildet. Flytt så tårnet til andre enden av brettet, men følg følgende regler:

1. Det er kun lov å flytte en brikke av gangen.
2. Du kan bare flytte den øverste brikken.
3. Du kan aldri sette en brikken på en brikke som er mindre en seg selv.

Når dere har løst oppgaven kan dere gå videre. Om dere ikke får det til/gir opp, må dere vente 15 minutter ved posten (fra dere "gir opp") før dere kan gå videre. Har dere bestemt dere for å vente, kan dere ikke fortsette å løse oppgaven. Da må dere vente ut tiden.




OPPGAVE 12



Lag en taustige med fem trinn. Bruk f.eks. dobbelt halvstikk.
Alle i gruppa må klatre opp og ned stigen.

Dette er siste post. Det laget som er først ferdig med taustigen er vinnerlaget, og er med videre til finaler i morgen.



ELIMINERING



Vinnerlaget konkurrerer her mot hverandre individuelt. De to beste (totalt) går til finale. Om det kun er to på laget, får vinneren vite svare på en av finaleoppgavene på forhånd.

Oppgave 1: Hvem holder ut lengst i planken

Oppgave 2: Pil og bueskyting

Oppgave 3: Løse puslespill i blinde

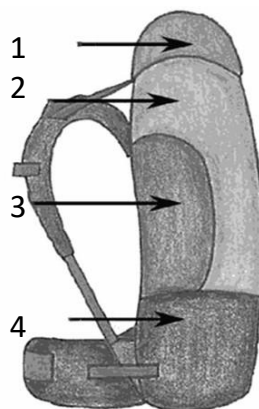


FINALE 1



Hva skal du pakke i 3?

- A. Tunge ting
- B. Sovepose
- C. Småting
- D. Lette ting



RIKTIG

GALT

GALT

GALT

A

B

C

D

FINALE 2



Hva står i fjellvettregel nr. 3?

- A. Vend i tide, det er ingen skam å snu
- B. Bruk kart og kompass. Vit alltid hvor du er
- C. Ta hensyn til vær- og skredvarsel
- D. Tilpass turen etter evne og forhold



GALT

GALT

RIKTIG

GALT

A

B

C

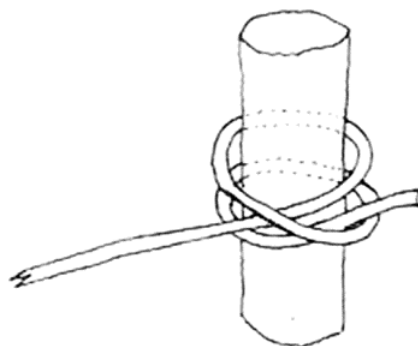
D

FINALE 3



Hvilken knute er dette?

- A. Dobbelt halvstikk
- B. Båtmannsknop
- C. Tømmerstikk
- D. Renneløkke



RIKTIG

GALT

GALT

GALT

A

B

C

D

FINALE 4



Hvor dyp er Tyrifjorden på det dypeste?

- A. 124 m
- B. 187 m
- C. 251 m
- D. 295 m



GALT

GALT

GALT

RIKTIG

A

B

C

D

FINALE 5



Hvilken tresort er dette?

- A. Lind
- B. Eik
- C. Osø
- D. Hassel



GALT

GALT

RIKTIG

GALT

A

B

C

D

FINALE 6



Hvilken tallrekke memoriserte dere i løypa?

- A. 98689988473735473215731840404352
- B. 98689988473735473215983840404352
- C. 98689988473735473215890840404352
- D. 98689988473735473215321840404352



GALT

RIKTIG

GALT

GALT

A

B

C

D

FINALE 7



Hvor mange meter over Tyrifjorden er Kongens utsikt?

- A) 424 m
- B) 484 m
- C) 497 m
- D) 515 m



FEIL

RIKTIG

FEIL

FEIL

A

B

C

D